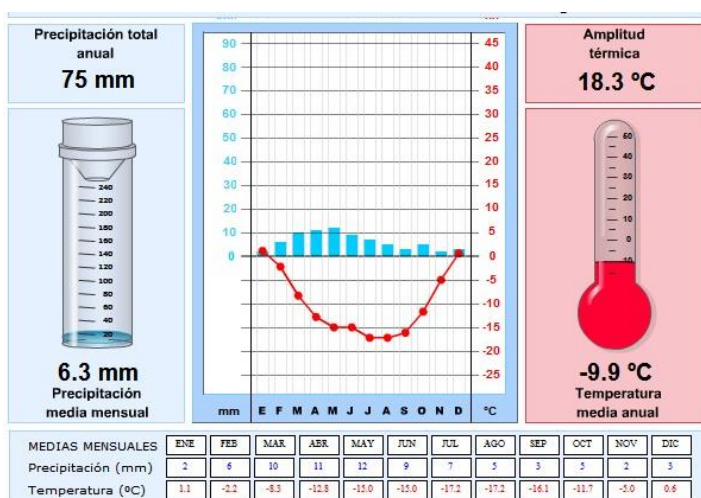


FICHA DE EJERCICIOS: PREPARACIÓN EXAMEN DE RECUPERACIÓN 2ª EVALUACIÓN

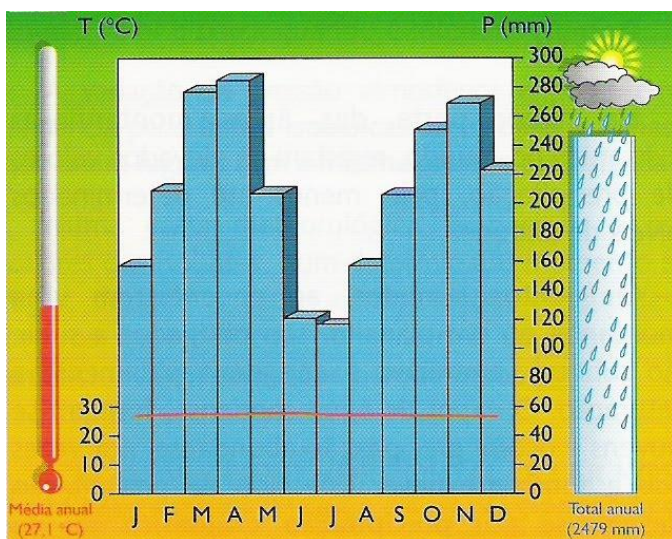
CLIMOGRAMAS

1. Escoge el clima al que pertenezca cada climograma:

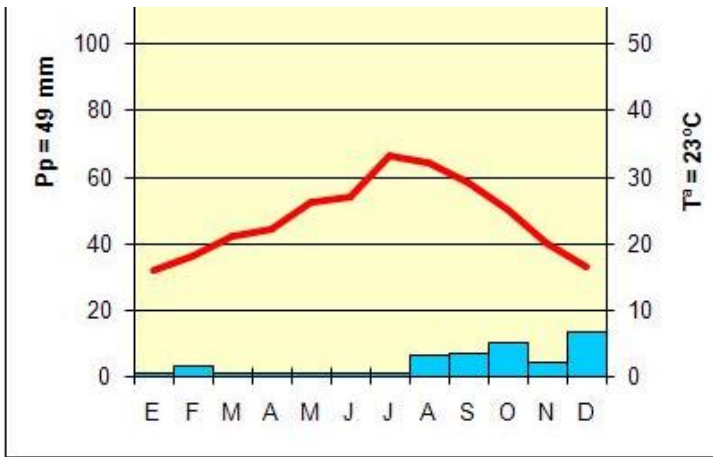
OPCIONES: POLAR, DESÉRTICO, MEDITERRÁNEO O ECUATORIAL



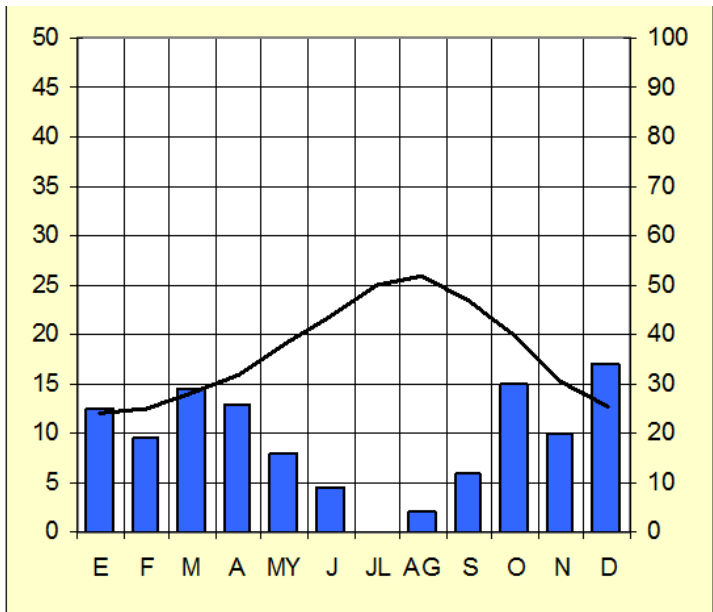
CLIMA: \_\_\_\_\_



CLIMA: \_\_\_\_\_

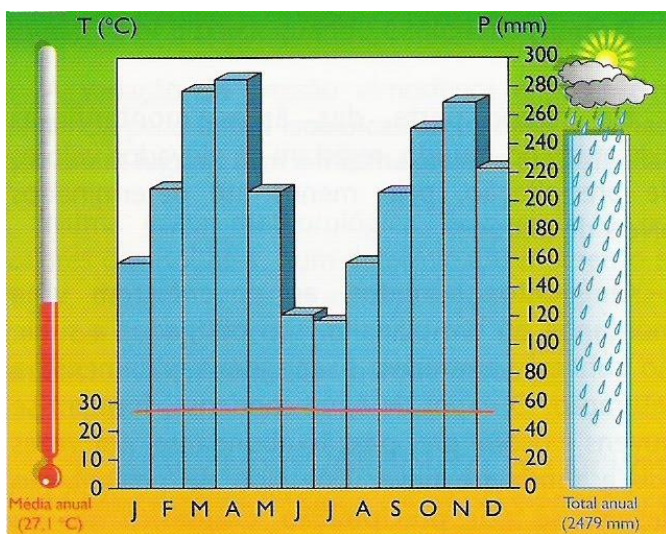


CLIMA: \_\_\_\_\_



CLIMA: \_\_\_\_\_

**2. CLIMOGRAMA. Completa las oraciones y responde a las siguientes preguntas:**



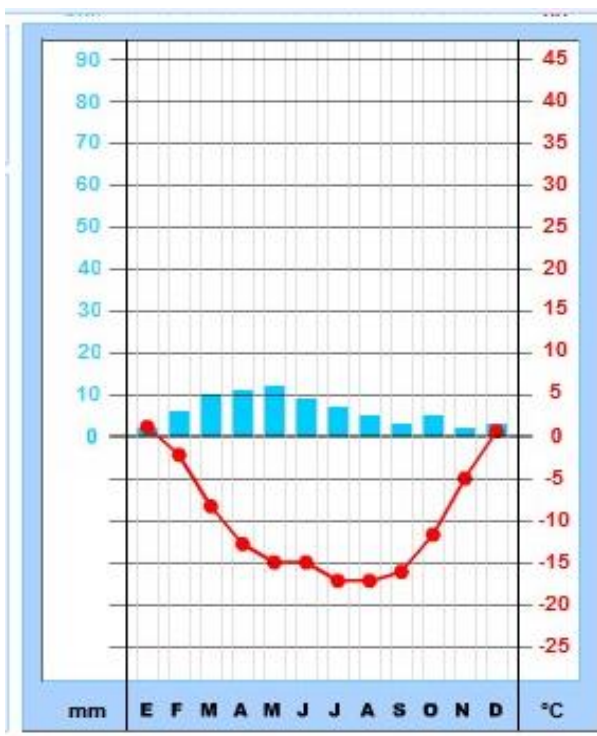
a) Este climograma pertenece a la zona \_\_\_\_\_ del planeta. Según las precipitaciones y las temperaturas que se observan en el climograma podemos decir que representa el clima \_\_\_\_\_.

b) ¿Cómo son las temperaturas: regulares o irregulares?:\_\_\_\_\_ . Los meses del año cuando más llueve son: \_\_\_\_\_.

c) ¿Podrías decirme el tipo de vegetación o el paisaje que podríamos encontrar en este tipo de clima? \_\_\_\_\_

d) ¿Cuáles serían las especies de animales que podríamos encontrar?:\_\_\_\_\_

**3. Fíjate en el siguiente climograma y contesta las preguntas:**



- a) ¿A qué zona térmica pertenecerá?
- b) ¿A qué clima?
- c) Comenta cómo son las temperaturas y las precipitaciones.
- d) ¿Qué tipo de fauna (animales), vegetación y paisaje podremos encontrar?

## CLIMAS Y PAISAJES

### 4. Une con flechas el clima con la característica que le corresponda:

- a) **Tropical**
  - Veranos calurosos y secos; inviernos suaves debido a la cercanía del mar.
- b) **Oceánico**
  - Caluroso, sin verdadero invierno y hay regiones secas (sabana) y otras muy húmedas (selva)
- c) **Polar**
  - Veranos calurosos e inviernos fríos.
- d) **Ecuatorial**
  - Muy húmedo, con temperaturas constantes de entre 20° C y 22° C constantes.
- e) **Continental**
  - Inviernos no muy fríos, veranos suaves y precipitaciones abundantes todo el año.
- f) **Mediterráneo**
  - Temperaturas siempre bajo 0° C.

### 5. Completa las oraciones empleando las siguientes palabras:

**CLIMA POLAR**

**TUNDRA**

**DEHESA**

**SABANA**

**OASIS**

**GARRIGA**

**GANADERÍA TRASHUMANTE**

- Vegetación propia de los climas fríos que comprende musgos, líquenes y algunos árboles enanos: \_\_\_\_\_
- Formaciones mediterráneas con una cubierta importante de matorrales altos y bajos, más o menos difícil de penetrar, y caracterizados por la presencia de arbustos de escasa altura, y plantas adaptadas a la sequía: \_\_\_\_\_
- Ganado que se traslada estacionalmente desde pasto de invierno a pastos de verano: \_\_\_\_\_
- Zona aislada en el desierto en el que hay agua y crece la vegetación: \_\_\_\_\_

- Se encuentra en regiones del continente africano y alberga animales como elefantes, leopardos, rinocerontes, leones, jirafas y cebras, entre otros. Por eso allí los safaris son muy populares: \_\_\_\_\_
- Oso polar, pingüinos y grandes bloques de hielo: \_\_\_\_\_
- Zonas de praderas entremezcladas con conjuntos de árboles de la misma especie (acornocales, encinares...), en las que encontramos ganado pastando: \_\_\_\_\_

6. **Colorea el mapa** con según se encuentren los distintos **climas en España** (No olvides los archipiélagos, Ceuta y Melilla). No olvides la leyenda de colores.



| LEYENDA                  |              |
|--------------------------|--------------|
| <input type="checkbox"/> | Subtropical  |
| <input type="checkbox"/> | Mediterráneo |
| <input type="checkbox"/> | Continental  |
| <input type="checkbox"/> | Oceánico     |
| <input type="checkbox"/> | Alta montaña |

## EL ESPACIO HUMANO (POBLACIÓN Y CIUDADES)

### 7. Responde a las preguntas del test. Solo una es correcta.

#### Un Estado es

- a) Es el conjunto de población que habita un territorio limitado por fronteras.
- b) Es el conjunto de población que tiene unas características comunes (por ejemplo el idioma) y que tiene un gobierno que les dirige y una constitución que recoge sus derechos y deberes.
- c) Las dos son correctas

#### Los municipios son

- a) Son las unidades político-administrativas más grandes, que integran la agrupación de varias provincias.
- b) Son las unidades político-administrativas más pequeñas, que integran uno o varios núcleos de población
- c) a y b son correctas.

#### Una población envejecida la encontramos en:

- a) Países desarrollados.
- b) Países subdesarrollados.
- c) Países en vías de desarrollo.

#### Las personas que emigran lo hacen principalmente por

- a) Cambio de destino en vacaciones y regreso a su vivienda habitual.
- b) Mejorar su calidad o nivel de vida
- c) Ninguna es correcta

### Los refugiados son

- a) Personas que entran y se establecen en un país sin los requisitos legales establecidos (permiso de residencia, de trabajo, etc...)
- b) Personas cuya vida corre peligro por causa de una catástrofe natural, una guerra, o una persecución política o étnico-religiosa.
- c) Ninguna es correcta

### 8. Completa las oraciones con las palabras: EMIGRANTE e INMIGRANTE

- a) Un \_\_\_\_\_ es la persona que tienen que salir de su país y marchar a otro buscando mejorar sus condiciones de vida.
- b) Un \_\_\_\_\_ es la persona que llega a un país distinto al suyo y allí tiene que buscar formar una vida.

### 9. Calcula la densidad de población de España y China. (1 punto)

| País   | Población Absoluta (2002) | Superficie                |
|--------|---------------------------|---------------------------|
| España | 39.900.000 hab.           | 504.783 km <sup>2</sup>   |
| China  | 1.294.400.000 hab.        | 9.572.900 km <sup>2</sup> |

¿Cuál es el país más densamente poblado? ¿Qué significa esto?

### 10. Existen varias condiciones para que un espacio sea considerado una ciudad, ¿cuáles son?

**11. Marca con una "X" las características que son propias de una ciudad:**

- Elevado número de habitantes
- Baja densidad de población
- Sus habitantes trabajan principalmente en la agricultura y la ganadería.
- Predominan edificios de varias plantas y escasas zonas verdes.
- Las calles, plazas y avenidas son de grandes dimensiones.

**12. Selecciona la respuesta correcta:**

**1. La periferia urbana es:**

- a) La zona urbanizada más externa del área metropolitana.
- b) La zona urbanizada en el perímetro urbano, donde normalmente se concentran las áreas dormitorio (los barrios a las afueras, poco conectados con la zona central).
- c) A y B son correctas.

**2. Los guetos son:**

- a) Barrios marginales.
- b) Barrios situados a las afueras de las ciudades habitados por población de clase media.
- c) A y B son correctas.

**3. Un área metropolitana es:**

- a) La zona urbana formada por una metrópoli (ciudad) y distintos satélites (espacios urbanos) alrededor.
- b) Una zona urbana comprendida por un casco histórico y distintos ensanches.
- c) Ninguna es correcta.



#### 4. El CBD

- a) Es el espacio de negocios de una gran ciudad, normalmente sus construcciones son grandes rascacielos.
- b) Central Business District.
- c) Tienen influencia a nivel mundial en distintos aspectos: culturales, económicos, políticos, sociales...

#### 5. El centro histórico:

- a) Es el espacio que da origen a una ciudad e incluye los edificios más antiguos.
- b) Es la zona construida en el siglo XIX para ubicar las familias que emigraron del campo a la ciudad.
- c) Ninguna es correcta.

13. Completa el mapa con el nombre de todos los océanos y los continentes e indica dónde está España



**14. Escribe en el mapa el nombre de las provincias y comunidades:**

- A) Ceuta, Granada, León, Toledo, Zaragoza, Cádiz, Cantabria, Barcelona, Badajoz y Murcia.
- B) Colorea las provincias de Castilla La Mancha y Castilla y León.
- C) Localiza la capital de España y escribe su nombre en el mapa, donde corresponda.
- D) Identifica los archipiélagos indicando su nombre en el mapa.



**15. ¿Qué es un estado?**