

FICHA DE TRABAJO: LA POBLACIÓN EN ESPAÑA Y EN EUROPA

Vamos a hacer un trabajo individual que debéis presentar el martes 24 de marzo de 2020. Me lo enviaréis al correo: eva@lopezvicu.es. El trabajo va a consistir en tres tipos de actividades:

-Lectura comprensiva del tema 9, del apartado 3 al 9 (ambos incluidos).

- Apartado 3: La distribución de la población europea y española
- Apartado 4: El movimiento natural en Europa y en España
- Apartado 5: Los movimientos migratorios en Europa
- Apartado 6: Los movimientos migratorios en España
- Apartado 7: El crecimiento de la población europea y española
- Apartado 8: La composición o estructura de la población
- Apartado 9: La población de la Comunidad de Madrid

-Resolución de los ejercicios que aparecen en la ficha. Me los haréis llegar al email, bien en un archivo Word o fotografías de vuestro cuaderno: eva@lopezvicu.es

-Prueba de seguimiento on-line el martes 24.

Cualquier duda, estoy a vuestra disposición en el correo electrónico. ¡Ánimo chic@s!

FICHA DE TRABAJO

En los siguientes ejercicios se incluyen actividades de repaso sobre conceptos básicos de demografía y otros específicos sobre el poblamiento en España y Europa:

1. Indica el concepto al que se refieren las siguientes definiciones:

- Número de habitantes por kilómetro cuadrado. _____
- Zona con menos de diez habitantes por kilómetro cuadrado. _____
- Área del planeta habitada de forma permanente. _____
- Número de defunciones habidas en una población en un año. _____
- Salida de la población desde el lugar de origen a otro. _____
- Estudio de la estructura demográfica por sexo y edad. _____

2. Señala cuál de las siguientes frases son verdaderas y cuáles falsas:

- La densidad de población es la relación entre el número de habitantes y la superficie.
- Las áreas más pobladas son las zonas desérticas y frías.
- La densidad de población del mundo es muy desigual.
- Las áreas menos pobladas son las que tienen mejores condiciones para la vida.
- Las áreas de climas templados son las más densamente pobladas.
- La población tiende a concentrarse en las llanuras y en las zonas costeras.
- El asentamiento tradicional influye en el desarrollo económico de una zona.

3. Completa las siguientes frases:

- El movimiento natural es la diferencia entre.....y
- La mortalidad es el número de..... producidos en.....
- La natalidad es elevada en países.....
- En general la mortalidad es más alta en los países..... que en los.....

4. Señala las respuestas correctas para las siguientes cuestiones:

- a) Los desplazamientos de la población de un lugar a otro son.....
- b) La salida de la población de un lugar se denomina.....
- c) La llegada de la población a un lugar de destino se llama.....

5. Completa las siguientes frases:

- a) Las migraciones interiores se producen dentro de un mismo.....
- b) Las migraciones.....traspasan las fronteras.....
- c) El éxodo rural es una migración que va del campo a.....
- d) Las migraciones exteriores actuales van de los países..... a los países.....

6. Consulta los mapas de densidad población en Europa y España. Obsérvalos y responde a las preguntas que aparecen a continuación:

- a) ¿Cómo es, en general, la densidad de población de los países de la Unión Europea?
- b) ¿Cuáles son los países más densamente poblados? ¿Cuáles pueden ser las razones? Argumenta tu respuesta
- c) ¿Cuáles son las áreas menos pobladas de Europa? ¿Por qué puede ser esto? Argumenta tu respuesta
- d) ¿Dónde se concentra la población en España?, ¿cuáles pueden ser las razones? Argumenta tu respuesta
- e) ¿Cuáles son las zonas menos pobladas de España?, ¿cuáles pueden ser las razones? Argumenta tu respuesta

7. Subraya la opción adecuada de entre las que aparecen en negrita:

- a) La estructura por sexo en España muestra un predominio de **mujeres/varones** en las edades adultas.
- b) La población de España se encuentra **envejecida/rejuvenecida** debido a las **altas/bajas** tasas de natalidad y a una **elevada/baja** esperanza de vida.
- c) El sector primario ocupa en la actualidad a una **mayoría/minoría** de la población activa.
- d) La tasa de actividad de España ha aumentado paulatinamente desde 1987 hasta la actualidad debido a la creciente incorporación femenina al **mercado laboral /al descenso del paro**.
- e) La implantación del Estado de bienestar, junto a la mejora del nivel de vida han contribuido al incremento del sector **primario/terciario**.

8. Elige la respuesta adecuada:

- a) Los focos de concentración demográfica en España se localizan en:
 - 1) áreas de montaña, valles de los ríos e interior Península.
 - 2) zona del Levante, Madrid, Ceuta y Melilla.
 - 3) Madrid, periferia peninsular e islas.

b) La población de España en 2014 era de:

- 1) 25 millones de habitantes aproximadamente
- 2) 46 millones de habitantes aproximadamente
- 3) 75 millones de habitantes aproximadamente

c) Los focos de despoblamiento en España se localizan en:

- 1) el interior peninsular y las áreas de montaña
- 2) el interior peninsular y la zona sur de España
- 3) las islas y el tercio norte peninsular

d) La densidad media de la población española en 2014 estaba:

- 1) entre 26-80 habitantes /km²
- 2) entre 81-120 habitantes /km²
- 3) entre 121-160 habitantes /km²

e) La esperanza de vida de la población española está en torno a:

- 1) 60 años
- 2) 70 años
- 3) 80 años

9. Señala con una X las frases verdaderas para un régimen demográfico antiguo:

- Se mantuvo hasta principios del siglo XX en España y Europa.
- La natalidad descendió bruscamente.
- Una rápida recuperación de la natalidad motivada por la inmigración.
- Mortalidad alta por baja higiene y escasez de cuidados médicos.
- Bajo crecimiento natural.
- Este régimen se mantiene todavía en algunos países.

10. ¿Qué diferencias hay actualmente en relación al movimiento natural de la población en España y en el resto de Europa?

11. ¿Qué fue el éxodo rural? ¿Cuándo tuvo lugar? ¿Cuáles fueron sus causas principales?

12. Lee el texto y contesta a las preguntas:

“De cada cien personas empadronadas en España diez llegaron cruzando fronteras. Los inmigrantes representan ya el 10% de los 45,2 millones de personas que integran la población española (...)

España, su población, crece a lo ancho y a lo largo, en cantidad y tiempo de vida. En el 2015 el país alojará a 50 millones de ciudadanos, frente a los 45 millones actuales, y seguirá creciendo el porcentaje de inmigrantes, con la incorporación de más de cuatro millones en siete años (...) hombres y mujeres ganarán un año de expectativa de vida (...) la tasa de natalidad, aún renqueante, alcanzará poco a poco el promedio europeo. De igual modo, la tasa de fecundidad subirá ligeramente, de 1,4 hijos por mujer en 2007, a 1,5. De cumplirse estas expectativas, España se equipararía a los promedios europeos.

Las proyecciones del INE dibujan una pirámide que dentro de siete años seguirá ofreciendo el mismo perfil que el actual, con menos base de la deseable, y demasiado grosor a la altura de la 'cintura', en las edades medias. En el 2007 la franja más amplia de población española está entre los 30 y los 35 años. En el 2015 subirá de los 35 a los 40 años. Según todos los pronósticos, el país seguirá envejeciendo”.

Artículo de prensa. 18/01/2007.

- a) Según el texto, ¿qué factores serán los que harán crecer la población en España en los próximos años?
- b) ¿Cómo está la actual tasa de natalidad española, por debajo o por encima de la media europea? ¿Qué previsiones se hacen?
- c) ¿Qué forma de pirámide dibujaban las proyecciones del INE para 2015? ¿Qué consecuencias tiene el progresivo envejecimiento de la población?
- d) En relación con el punto anterior, ¿consideras positiva o negativa la llegada de inmigrantes? Justifica tu respuesta.

13. Contesta a las siguientes preguntas sobre los movimientos migratorios en España:

- a) ¿Por qué en el pasado España se caracterizó por ser un país de emigrantes?
- b) ¿Hacia dónde emigraron los españoles hasta mediados del siglo XX?

- c) ¿Hacia dónde emigraron los españoles después de mediados del siglo XX?
- d) ¿Desde cuándo se produce un aumento considerable de la inmigración extranjera en España?
- e) ¿De qué países o regiones son mayoritariamente los inmigrantes que llegan a España?
- f) ¿Cuáles son las motivaciones que les hacen venir?

14. Calcula la densidad de población, la tasa de natalidad, la tasa de mortalidad y el crecimiento natural de España y de la Comunidad de Madrid.

	Población	Nacimientos	Defunciones	Superficie
España	47.007.367	439.683	383.729	505.990
Comunidad de Madrid	6 661 949	16.551	17.011	8.022

15. Observa los diagramas de sectores de tu libro (pág. 205) que muestra los datos sobre el porcentaje de población española ocupada en los distintos sectores de actividad económica y responde a las preguntas:

- a) ¿En qué año existía mayor predominio de trabajadores en el sector primario?
- b) ¿Cuál es el sector en el que hay más trabajadores en 2014?
- c) ¿Qué sector es el que más ha cambiado en todo el tiempo señalado?, ¿a qué puede deberse el cambio?

16. Señala las frases verdaderas:

El sector secundario comprende la agricultura y la ganadería.

El sector terciario incluye los servicios a la comunidad.

El sector primario transforma las materias primas.

El sector secundario agrupa la industria y la construcción.

El sector terciario puede subdividirse en banal y superior o cuaternario.

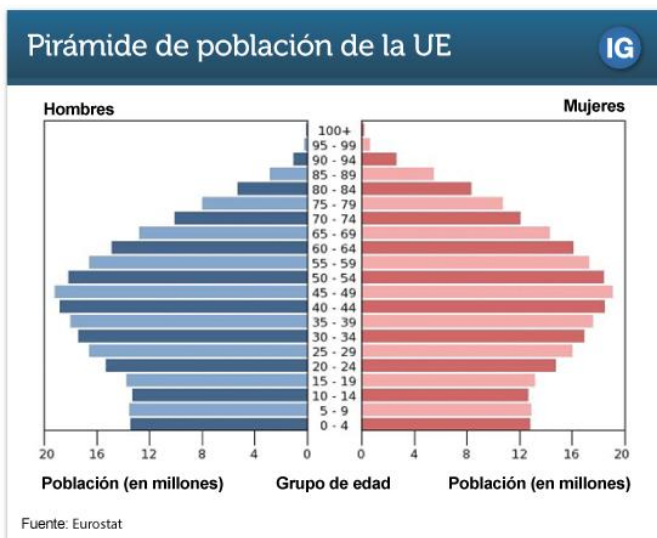
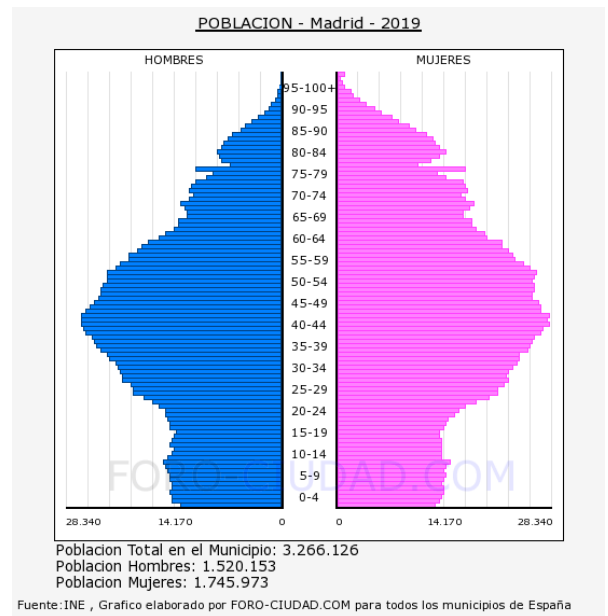
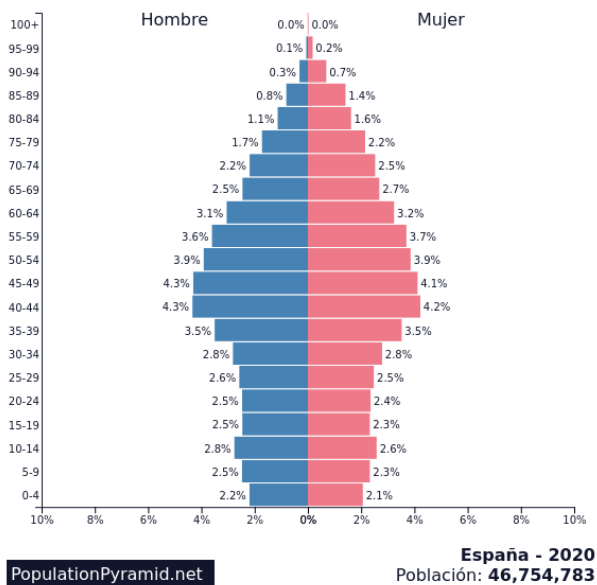
El sector primario incluye la explotación forestal y pesquera.

17. Completa las siguientes frases:

- a) En los países desarrollados la mayor parte de la población activa se ocupa en el sector.....

- b) En los países en vías de desarrollo el sector primario.....
- c) El sector terciario banal incluye actividades tales como.....
- d) Para trabajar en actividades del sector cuaternario se requiere.....

18. Comenta las siguientes pirámides de población. Para hacer tu comentario ayúdate de las preguntas guía:



- ¿Qué forma presenta?
- ¿Es una población joven o envejecida?
- ¿La esperanza de vida es alta o baja?
- ¿La natalidad es alta o baja?
- ¿Existe algún estrechamiento o ensanchamiento anormal? ¿a qué puede deberse?
- En los próximos años, ¿crecerá o decrecerá la población?
- ¿La pirámide corresponde a un área desarrollada o subdesarrollada?